






Robot Fabrikasında...



Burası bir robot fabrikası! Fabrikada farklı özellikler eklenerek tam 17 insansı robot geliştirilmiş. Yani yeni bir robot geliştirilirken hep bir önceki robotun bir özelliği değiştirilmiş ve daha gelişmiş bir robot elde edilmiş. Bu sayfalardaki robotların özelliklerini inceleyerek robotların numaralarını doğru sırayla aşağıdaki boş dairelerin içine yazabilir misiniz?



İlk geliştirilen robot 2 numaralı olan. Bir sonraki aşamada bu robota kollar eklenmiş ve 8 numaralı robot elde edilmiş. Siz de 8 numaralı robottan devam ederek ondan yalnızca bir özelliği farklı olan robotu bulun ve bu biçimde ilerleyerek robotun en gelişmiş hâline ulaşın.






9


8



10



11




12



13




14



15



16



17

