

DÜŞÜNEREK EĞLENELİM


Gizemli Sayılar

2, 3, 5, 8, 12, 17, ?

Soru işareti olan yere gelmesi gereken sayıyı bulmanız gerekiyor. Bunun için, öncelikle sayılar arasındaki ilişkiyi iyice gözden geçirmelisiniz!

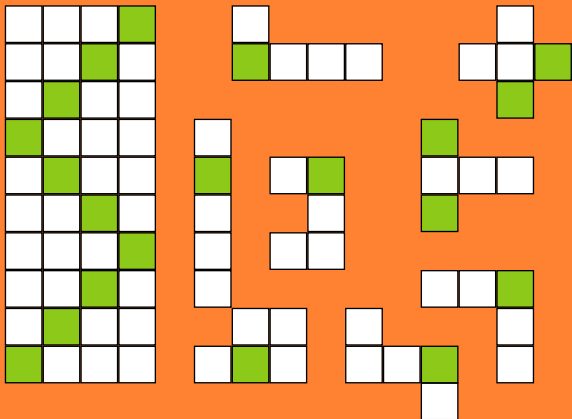
Bardakları Sırala

Üçü dolu, üçü boş 6 su bardağı yan yana sıralı. Yalnızca bardaklardan birine dokunarak sıralamayı değiştirmenizi istiyoruz. Yeni sıralamaya göre, bir dolu bir boş bardak yan yana gelmeli.



Yapboz

Sağdaki şekillerin her birini, soldaki dikdörtgeni oluşturabilecek şekilde yerleştirebilir misiniz? İsterseniz bu şekilleri kâğıt üzerine çizip, sonra keserek de yerleştirebilirsiniz.



8 Eşkenar

Üçgen

Eşit uzunluktaki 6 doğru parçasını kullanarak, 8 eşkenar üçgen elde edebilir misiniz?





Kim, Kaç Dil Biliyor?

28 kişilik bir sınıfta, 8 kişi hem İngilizce hem Fransızca konuşabiliyor. 14 kişi de yalnızca bu dillerden birini konuşabiliyor.

Sizce, bu sınıfta kaç kişi bu dillerden hiçbirini konuşamıyor?



Sözcük Yakalamaca

Aşağıdaki kutucukların üzerinde karışık sırayla duran harfleri sıralayarak doğru sözcükleri oluşturun.

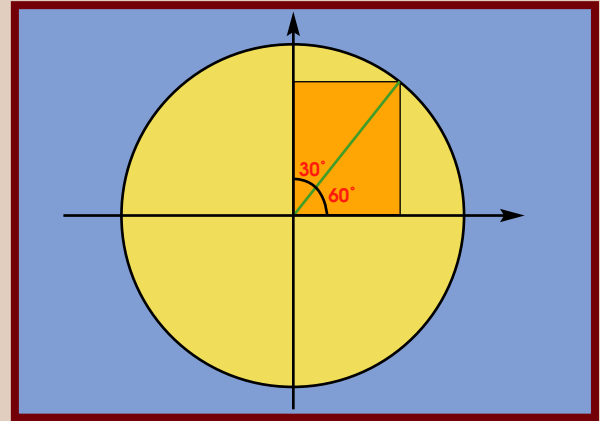
1 - OGERİMET

2 - TİKMATEMA

3 - ÇOGENK

4 - ÜGENÇ

5 - RAKE



Bulduğunuz sözcüklerde farklı renkli kutucuklar içine alınmış harfleri doğru olarak sıralayın. Üçgenlerde, açılarla kenarlar arasındaki ilişkiyi inceleyen matematik dalının adını bulacaksınız.

Geçen Sayının Yanıtları

Saat Kaç
12:45



Denge Oyunu
4 karo

Kutu Kutu Pense
5

Gerdanlık Yapalım
Üç halkalı kısa zincirden birinin halkalarını, diğer üç kısa zinciri birleştirmek için kullanabilirsiniz.

Gizemli Fotoğraf
Yaprak lifi

Üçgenleri Yakala
35

Sözcük Yakalamaca
Golgi cisimciği



Banu Binbaşaran Tüysüzoğlu