

Düşünerek Eğlenelim



Basketbol Turnuvası Başlıyor!

97 okulun basketbol takımının katılacağı bir turnuva yapılacak. İlk olarak 97 takım ikişerli eşleştirilecek ve birbirleriyle karşılaşacak. Sonra, kaybedenler elenecek ve geriye kalanlar yine ikişerli eşleştirilerek birbiriyle karşılaşacak. Şampiyon belirlenene kadar maçlar sürecek. Bunun için toplam kaç maç yapılması gerekir?

Kaç Yaşında Bu Çocuklar?

İki matematikçi, Akif Bey ve Şevket Bey aralarında konuşuyorlar. Akif Bey, 3 çocuğu olduğunu ve üçünün de doğum günlerinin aynı olduğunu söylüyor. Şevket Bey, çocukların yaşlarını sorduğunda, Akif Bey, ipucu olarak yaşlarının çarpımının 72 olduğunu söylüyor. Ayrıca, yaşlarının toplamını da ekliyor. Şevket Bey, bu durumda iki olasılık olduğunu ve bu ipuçlarının yeterli olmadığını söyleyince, Akif Bey, en küçük çocuğunun adının Banu olduğunu söylüyor. Şevket Bey, çocukların yaşlarını hemen buluyor. İpuçlarını iyi kullanırsanız, çocukların yaşlarını siz de bulabilirsiniz!



Soru İşaretini Kaldır!

Şekilde soru işareti olan yere hangi sayı gelmeli? Bunun için, önce dairenin her bir dilimindeki sayılar arasındaki doğru ilişkiyi bulmanız gerekiyor.



Yüzme Skorları

33,13 saniye
29,08 saniye
28,36 saniye
31,75 saniye
34,14 saniye
31,25 saniye

Yüzücüler İş Başında!


Ayşin, Bahadır, Bahar, Ali, Hande ve Tamer iki okul arasındaki yüzme yarışmasına katılan öğrenciler. Her bir takımda üçer yüzücü var. Yüzücülerin elde ettiği skorlar tabloda gösteriliyor.

Ev sahipliği yapan takımın toplam skoru 93,46 saniye.
Konuk takımdan olan Bahadır, en hızlı yüzücü.
Ev sahibi olan takımın yüzücüsü Ayşin, Bahar'dan 0,5 saniye daha hızlı.
Ev sahibi takımın aldığı iki ödülünden biri Ali'ye ait.
Bahar, 2 saniyeden daha fazla bir farkla Tamer'i geçiyor.

Kimin, hangi takımda olduğunu ve her birinin skorunu bulabilir misiniz?

İyi Düşün Taşın!

Şekildeki kareleri iki parçaya ayırın. Elde edeceğiniz iki yeni şeklin birbirinin aynı olması gerektiğini unutmayın.



Geçen Sayının Yanıtları


Kimin Kaç Lirası Var?

Denizin, yalnızca 4 tane 250 bin lirası var; Artaçın, 2 tane 50 bin, 4 tane 100 bin, 2 tane 250 bin lirası var; Ayça'nın 1 tane 50 bin, 2 tane 100 bin, 1 tane 250 bin lirası var; Doğan'ın 1 tane 50 bin, 2 tane 100 bin, ve 3 tane 250 bin lirası var.

Nereye Koyacak?

$369 + 81 + 82 + 468 = 1000$

Yönünü Değiştirelim!



Rüzgâr Enerjisini Kullanarak...

10

Sözcük Yakalamaca

Kristalleşme

Sözcük Yakalamaca

Aşağıdaki kutucukların üzerinde karışık duran harfleri sıralayarak doğru sözcükleri oluşturun.

1 LİKRADEKA



2 TRONEKLE




3 ĞIKUŞAĞÖK



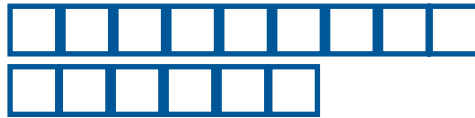
4 NİMŞİİ



5 JİNERE



Bulduğunuz sözcüklerde daire içine alınmış harfleri doğru olarak sıralayın. Resimdeki ünlü fizikçinin geliştirdiği kuramlardan birinin adını bulacaksınız.



Banu Binbaşaran

